

**TEST: PN - PSICOTÉCNICO 009**  
**EXAMEN ESCALA BÁSICA 2014**

**INSTRUCCIONES**

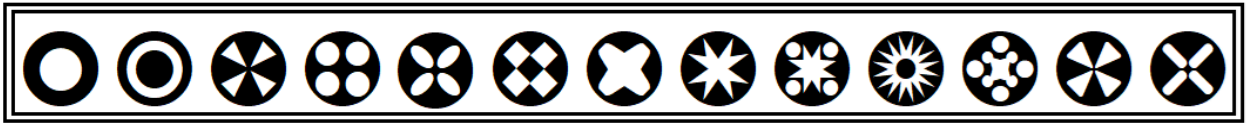
A partir de este momento dispone de **10 MINUTOS**.









































En el siguiente ejercicio se muestran una serie de trece figuras. Marque en su hoja de respuestas cuantas de las figuras que aparece en cada pregunta son exactamente iguales a las del modelo. Conteste:

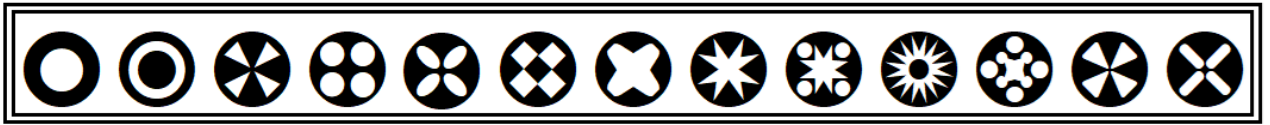
- A) si las cuatro figuras son iguales.
- B) si tres figuras son iguales.
- C) si dos figuras son iguales.
- D) si una figura es igual.
- E) si ninguna figura es igual a las del modelo.











Este ejercicio consta de 50 PREGUNTAS que deberá responder en la ZONA 2 (DE LA PREGUNTA 1 A LA 50) de la hoja de respuestas.


Si lo desea puede hacer anotaciones en el cuadernillo, junto a la pregunta que esté contestando. **TENGA EN CUENTA QUE LOS ERRORES PENALIZAN. COMIENZE.**












































1.    
2.    
3.    
4.    
5.    
6.    
7.    
8.    
9.    
10.    












































11. 
12. 
13. 
14. 
15. 
16. 
17. 
18. 
19. 
20. 











































21.    
22.    
23.    
24.    
25.    
26.    
27.    
28.    
29.    
30.    



- 31.    
- 32.    
- 33.    
- 34.    
- 35.    
- 36.    
- 37.    
- 38.    
- 39.    
- 40.    



- 41.    
- 42.    
- 43.    
- 44.    
- 45.    
- 46.    
- 47.    
- 48.    
- 49.    
- 50.    

**FIN DEL EJERCICIO. SOLUCIONES**

1	D	11	B	21	D	31	A	41	D
2	C	12	A	22	A	32	C	42	D
3	B	13	C	23	C	33	D	43	E
4	C	14	B	24	D	34	E	44	C
5	A	15	D	25	E	35	B	45	C
6	E	16	E	26	A	36	A	46	A
7	C	17	C	27	B	37	C	47	C
8	D	18	A	28	E	38	C	48	C
9	B	19	D	29	B	39	B	49	C
10	A	20	E	30	B	40	B	50	A